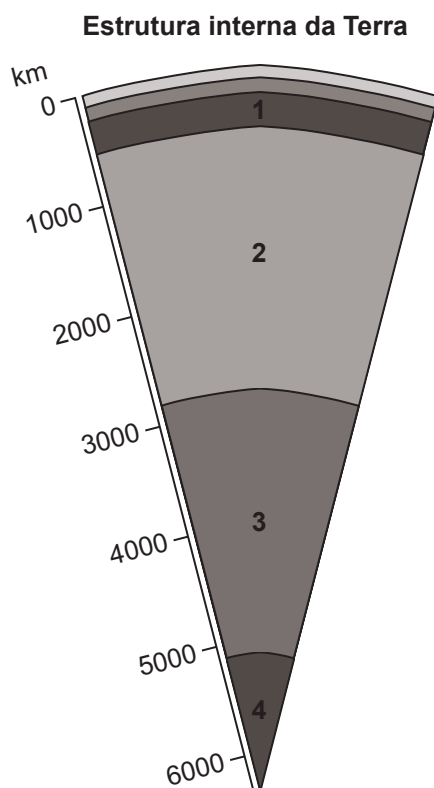


GEOGRAFIA

INSTRUÇÃO: Para responder à questão 11, analise o corte esquemático (croqui) a seguir, que mostra as camadas internas da Terra.



11) No croqui, a camada identificada com o número 2 corresponde _____ do planeta.

- A) à crosta
- B) à litosfera
- C) à astenosfera
- D) ao manto
- E) ao núcleo

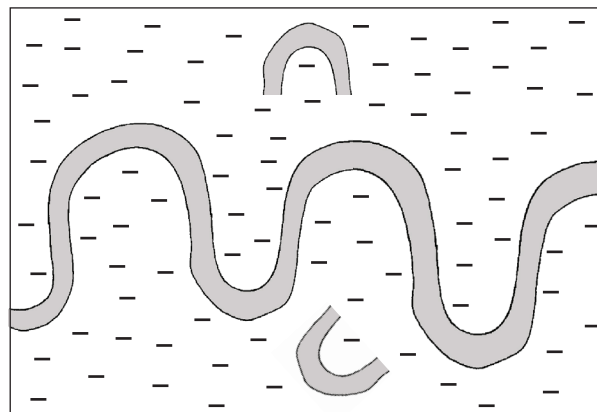
12) No dia 08 de março deste ano, o voo MH 370 da *Malaysia Airlines* partiu de Kuala Lumpur, capital da Malásia, em direção a Pequim, na China, mas não chegou ao seu destino, pois o avião supostamente desapareceu ao sul do Oceano Índico. Caso o voo tivesse completado seu trajeto, o traçado da rota de Kuala Lumpur a Pequim teria seguido, aproximadamente, o rumo

- A) sudeste.
- B) nordeste.
- C) sudoeste.
- D) sul-sudeste.
- E) norte-noroeste.

INSTRUÇÃO: Para responder à questão 13, leia a informação e analise o croqui a seguir.

As bacias hidrográficas são constituídas pelas vertentes e pela rede de rios principais, afluentes e subafluentes, cujo conjunto forma a chamada rede de drenagem. Essa drenagem origina os padrões (desenhos) que os canais fluviais configuram sobre a superfície da bacia hidrográfica.

Perfil de drenagem



13) O padrão de drenagem acima exemplificado classifica-se como

- A) radial.
- B) retilíneo.
- C) dendrítico.
- D) entrelaçado.
- E) meandrante.

INSTRUÇÃO: Para responder à questão 14, analise as afirmativas abaixo sobre terremotos e *tsunamis* no Chile.

- I. O terremoto de 8,2 graus na escala Richter que ocorreu no Chile em abril de 2014 está associado à movimentação das placas tectônicas.
- II. Um terremoto de fundo oceânico na costa chilena é capaz de gerar um *tsunami* que, em sua propagação, pode atingir os países localizados no Pacífico Leste.
- III. Os terremotos chilenos são ocasionados por duas placas tectônicas em movimento divergente.

14) Está/Estão correta(s) a(s) afirmativa(s)

- A) I, apenas.
- B) II, apenas.
- C) I e II, apenas.
- D) II e III, apenas.
- E) I, II e III.

INSTRUÇÃO: Para responder à questão 15, leia e analise as informações contidas na tabela sobre os países listados.

Países	População Absoluta (*) (habitantes em milhões)	Superfície (em km ²)
Argentina	43.024.374	2.780.400
Bélgica	10.449.361	30.528
Brasil	202.656.788	8.514.877
China	1.355.692.576	9.596.961
França	66.259.012	643.801

(*) estimativa para julho de 2014

Fonte: Book of Facts. Acessado em 03/04/2014

15) A análise da tabela permite inferir que está correto o que se afirma em:

- A) A Argentina apresenta pequena densidade demográfica, conforme a relação entre a população absoluta e a área.
- B) Brasil e China são, de acordo com a tabela, os países mais populosos e povoados.
- C) Brasil e França, quando comparados em relação à população absoluta, são, respectivamente, um país povoado e um país populoso.
- D) A Bélgica é um país pouco povoado, se considerada sua população absoluta.
- E) A China apresenta a densidade demográfica de 13 habitantes por km².

16) Sobre a produção agrícola brasileira é **INCORRETO** afirmar que

- A) os derivados de cana-de-açúcar estão entre os produtos agrícolas incluídos na pauta de exportação nacional.
- B) o arroz produzido no Brasil, principalmente em pequenas propriedades, é exportado para os países asiáticos.
- C) o café está entre os produtos agrícolas nacionais que têm garantia de colocação no mercado externo.
- D) os cítricos estão entre os produtos que têm boa colocação no mercado mundial.
- E) o trigo não tem produção nacional suficiente para o abastecimento do mercado interno.

INSTRUÇÃO: Para responder à questão 17, analise o texto abaixo e preencha as lacunas.

O potencial hidrelétrico brasileiro é considerado satisfatório para as atuais necessidades do país. No entanto, potencial não é a mesma coisa que potência gerada. No último verão, por exemplo, houve um período longo de estiagem, ocasionando uma baixa significativa nos níveis de água das represas. Além disso, as temperaturas muito elevadas demandaram maior consumo de energia elétrica, ocorrendo, inclusive, os chamados “apagões”. Para compensar a queda na geração de energia das hidrelétricas, que corresponde à _____ parte da energia elétrica produzida no Brasil, foi necessário que o governo acionasse as usinas _____, que utilizam _____ e _____, compensando o *déficit* energético nacional no período.

17) A alternativa que completa corretamente as lacunas é

- A) maior – termoelétricas – carvão mineral – óleo
- B) maior – eólicas – carvão vegetal – vento
- C) menor – termoelétricas – urânio – óleo
- D) maior – nucleares – carvão vegetal – óleo
- E) menor – nucleares – carvão vegetal – bauxita

INSTRUÇÃO: Para responder à questão 18, considere a classificação desenvolvida pelo GaWC (*Globalization and World Cities-Study Group and Network*), grupo responsável pelo estudo da globalização e das chamadas cidades globais, que divide as cidades em Alfa, Beta e Gama, de acordo com o poder de polarização de cada uma na economia global.

Nesse contexto

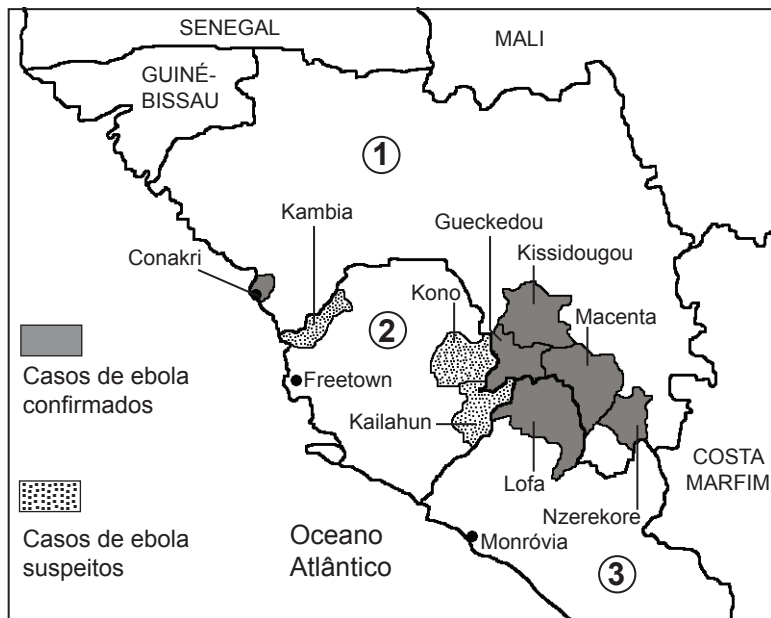
- I. Nova York é uma cidade Beta.
- II. Londres é uma cidade Alfa.
- III. São Paulo é uma cidade Beta.
- IV. Buenos Aires é uma cidade Alfa.

18) Estão corretas apenas as afirmativas

- A) I e II.
- B) I e III.
- C) I e IV.
- D) II e III.
- E) II e IV.

INSTRUÇÃO: Para responder à questão 19, leia as informações sobre a febre Ebola e analise o mapa da África com alguns países numerados.

Uma epidemia mortal e sem precedentes assombra a África. É o surto da Ebola, uma febre hemorrágica transmitida por contato direto com o sangue, os fluidos ou os tecidos dos indivíduos infectados, e para a qual não existe tratamento específico. Os países africanos atingidos pela febre estão marcados no mapa com os números 1, 2 e 3.



19) A alternativa que apresenta a correta identificação dos países numerados, em ordem crescente, é

- A) Guiné – Serra Leoa – Libéria
- B) Camarões – Guiné Equatorial – Togo
- C) República do Congo – Eritreia – Chade
- D) Nigéria – Níger – Mauritânia
- E) Marrocos – Argélia – Tunísia

20) O geógrafo brasileiro Jose William Vesentini, referindo-se à dissolução da União Soviética, escreveu “Novos países, problemas antigos” (2010). Esse título serve para explicar o início dos confrontos entre a Rússia e a Ucrânia, tendo como foco a disputa pela península

- A) de Kola.
- B) de Yamal.
- C) da Crimeia.
- D) da Geórgia.
- E) de Kamtchatka.